

prénom :

RESOLUTION DE PROBLEMES

Gammes

COMPARAISON

différence

petite valeur

grande valeur

CM1/CM2

Je sais trouver ...	A	AR	ECA	NA
... la différence				
... la petite valeur				
... la grande valeur				



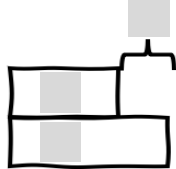

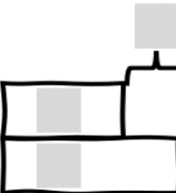

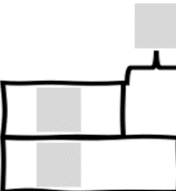

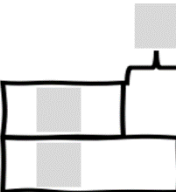

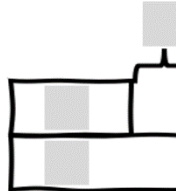



Pour chacun des énoncés :

1- J'encadre les **valeurs** d'ETAT et j'entoure deux fois les COMPARAISON

2- Puis je complète le **schéma** avec les valeurs : **9 4 ?**

3- Et enfin j'écris le **calcul** correspondant avec les nombres et le signe de l'opération

Enoncé : j'encadre ou j'entoure les valeurs  		Schéma de COMPARAISON	Calcul
1	Jerry a 9 cartes et Kim en a 4 de plus. Combien de cartes possède Kim ?		$\begin{matrix} + & - \\ \downarrow \end{matrix}$ 
2	Jerry a 9 cartes et Kim en possède 4 . Combien de cartes Kim possède-t-elle en moins ?		
3	Jerry a 9 cartes de plus que Kim qui en possède 4 . Combien de cartes possède Jerry ?		
4	Jerry a 9 cartes et et Kim en a 4 de moins. Combien de cartes possède Kim ?		
5	Jerry a 9 cartes et Kim en possède 4 . Combien de cartes Jerry possède-t-il en plus ?		
6	Jerry a 9 cartes et en a 4 de moins que Kim. Combien de cartes possède Kim ?	